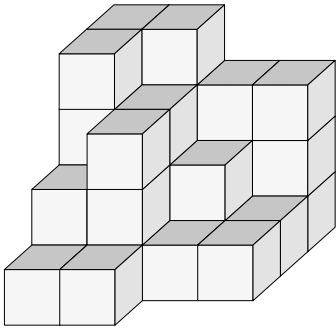


BLOK 8 10 **GRONDPLANNEN EN AANZICHTEN VAN BLOKKENBOUWSELS HERKENNEN EN SAMENSTELLEN**

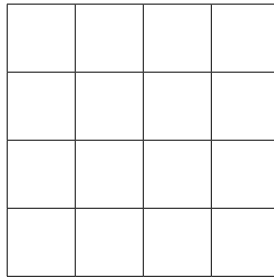


a Vul het grondplan van het blokkenbouwsel in en tel het aantal blokken.



voor ↗

grondplan



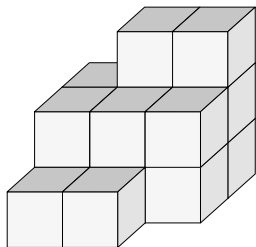
Dit bouwsel telt blokken.

Noteer het aantal blokken in elke stapel. Tel die aantallen dan samen.

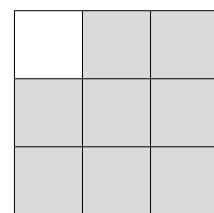
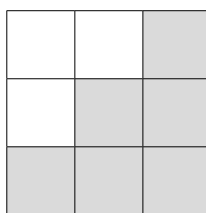
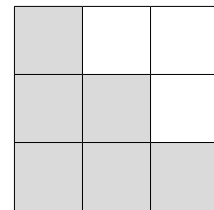
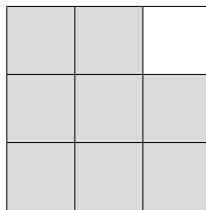


b Verplaats je in gedachten rond het bouwsel en benoem de aanzichten.

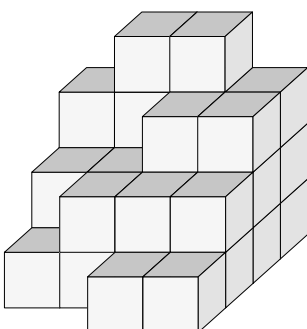
Kies uit: vooraanzicht, achteraanzicht, zijaanzicht links, zijaanzicht rechts.



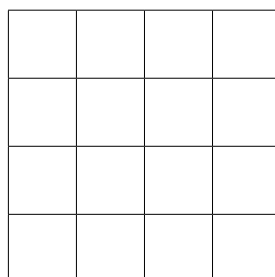
voor ↗



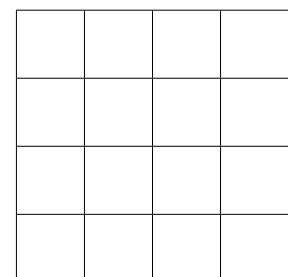
c Kleur de aanzichten nu zelf.



voor ↗



achteraanzicht

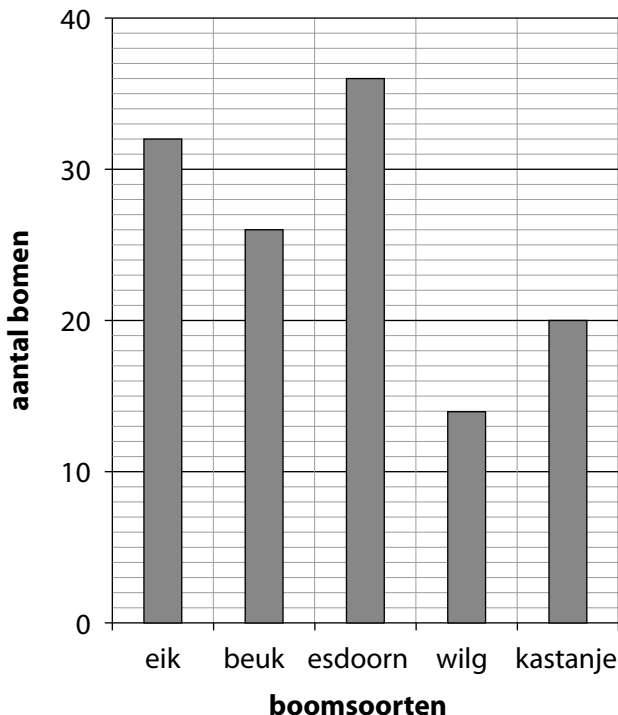



zijaanzicht rechts

BLOK 8 **2 EEN STAAFDIAGRAM LEZEN EN INTERPRETEREN** 

Beantwoord de vragen bij de staafdiagrammen en voer de opdrachten uit.

- Een gemeente heeft een nieuw stukje bos aangelegd. Hier zie je hoeveel bomen van elke soort er zijn geplant.



Kleur de horizontale as blauw en de verticale as groen. 

Welke informatie vind je op de horizontale as?

.....

Welke informatie vind je op de verticale as?

.....

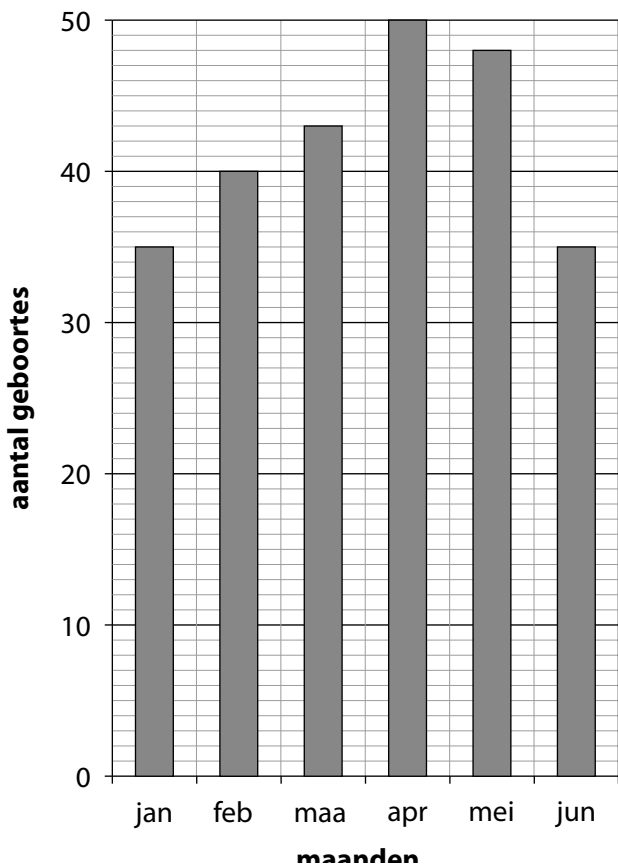
Kruis de staaf aan die juist 20 bomen voorstelt. 
 Omkring de boomsoorten waarvan er meer dan 30 werden geplant. 

Welke boomsoort werd het meest geplant?

.....

Hoeveel beuken werden er geplant?

- Een ziekenhuis hield het aantal geboortes bij tijdens de eerste helft van dit jaar.



In welke maand werden de meeste baby's geboren?

.....

In welke maanden waren er evenveel geboortes?

.....

Hoeveel geboortes waren er in maart?

.....

Hoeveel geboortes waren er meer in mei dan in februari?

.....

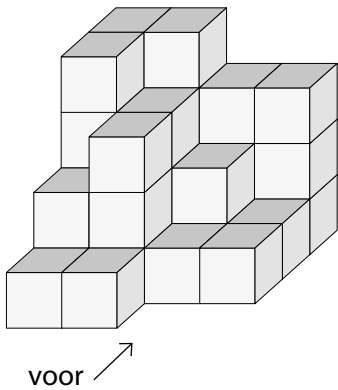
'Van januari tot april is het aantal geboortes elke maand gestegen.'

Is dat waar of niet waar?

BLOK 8 10 GRONDPLANNEN EN AANZICHTEN VAN BLOKKENBOUWSELS HERKENNEN EN SAMENSTELLEN



a Vul het grondplan van het blokkenbouwsel in en tel het aantal blokken.



grondplan

4	4	3	3
4	3	2	1
2	3	1	1
1	1		

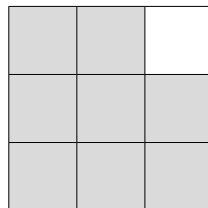
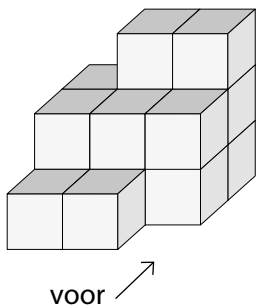
Noteer het aantal blokken in elke stapel. Tel die aantallen dan samen.



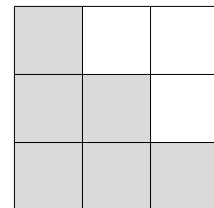
Dit bouwsel telt33..... blokken.

b Verplaats je in gedachten rond het bouwsel en benoem de aanzichten.

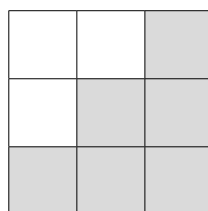
Kies uit: vooraanzicht, achteraanzicht, zijaanzicht links, zijaanzicht rechts.



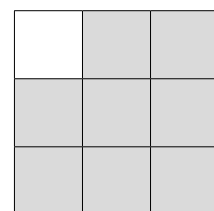
.....achteraanzicht.....



.....zijaanzicht links.....

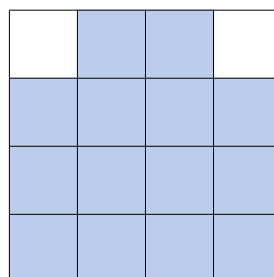
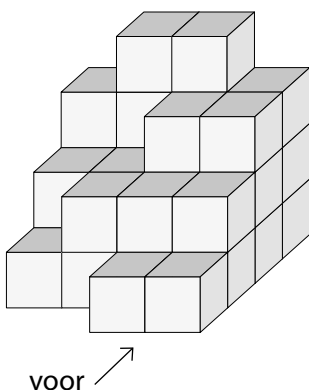


.....zijaanzicht rechts.....

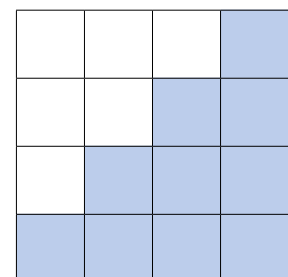


.....vooraanzicht.....

c Kleur de aanzichten nu zelf.



achteraanzicht



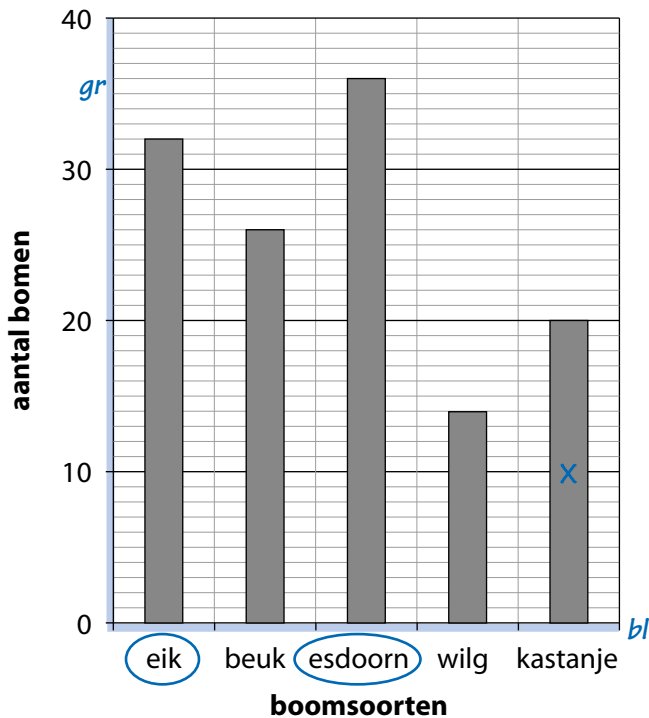
zijaanzicht rechts

BLOK 8 2 EEN STAAFDIAGRAM LEZEN EN INTERPRETEREN



Beantwoord de vragen bij de staafdiagrammen en voer de opdrachten uit.

- Een gemeente heeft een nieuw stukje bos aangelegd. Hier zie je hoeveel bomen van elke soort er zijn geplant.



Kleur de horizontale as blauw en de verticale as groen.

Welke informatie vind je op de horizontale as?

de boomsoorten

Welke informatie vind je op de verticale as?

het aantal bomen

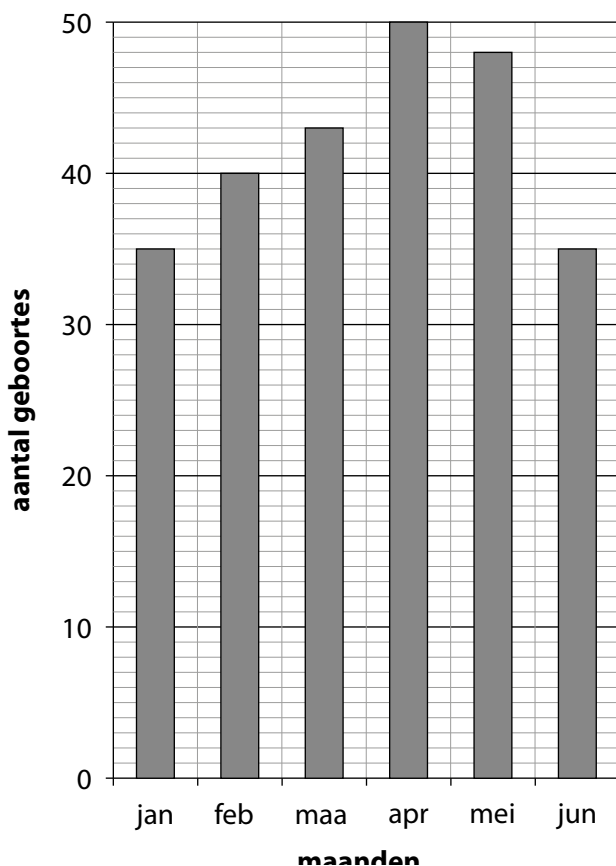
Kruis de staaf aan die juist 20 bomen voorstelt. Omkring de boomsoorten waarvan er meer dan 30 werden geplant.

Welke boomsoort werd het meest geplant?

de esdoorn

Hoeveel beuken werden er geplant? *26*

- Een ziekenhuis hield het aantal geboortes bij tijdens de eerste helft van dit jaar.



In welke maand werden de meeste baby's geboren?

in april

In welke maanden waren er evenveel geboortes?

in januari en juni

Hoeveel geboortes waren er in maart?

43

Hoeveel geboortes waren er meer in mei dan in februari?

8 meer

'Van januari tot april is het aantal geboortes elke maand gestegen.'

Is dat waar of niet waar? *waar*